

**Олимпиада школьников по истории. Школьный этап. 9 класс**

**Время написания работы – 90 минут**

**1. По какому принципу образованы ряды? Кто или что является лишним в ряду? Вычеркните лишнее и дайте объяснение, почему? Ответы без объяснения не оцениваются! (6 баллов)**

1.1. Екатерина I, Петр I, Анна Иоанновна, Екатерина II, Елизавета Петровна.

Принцип \_\_\_\_\_

Исключение \_\_\_\_\_

1.2. Сан-Стефанский мирный договор, Белградский мирный договор, Ништадтский мирный договор, Ясский мирный договор, Кючук-Кайнарджийский мирный договор

Принцип \_\_\_\_\_

Исключение \_\_\_\_\_

1.3. Н.М. Карамзин, А.П. Сумароков, П.Я. Чаадаев, Г.Р. Державин, Д.И. Фонвизин

Принцип \_\_\_\_\_

Исключение \_\_\_\_\_

**2. Согласны ли Вы с приведенными ниже высказываниями и определениями исторических терминов и понятий? Если согласны, напишите «Да», если не согласны - «Нет». Внесите свои ответы в таблицу (8 баллов)**

2.1 До 988 года в Киевской Руси не было христиан

2.2. В XIII веке Русское государство представляло собой целостное централизованное государство с сильной княжеской властью

2.3. Холопы и закупы – категории зависимого населения Древней Руси

2.4. Опричнина – политика, которую проводил Иван IV

2.5. Смоленская война окончилась подписанием Поляновского мира

2.6. Основными центрами культуры в XVIII веке являлись монастыри

2.7. Россия не имела выходов к морю вплоть до правления Петра I

2.8. В движении декабристов выделялись два общества – Северное и Южное

1	2	3	4	5	6	7	8

**3. Перед Вами фрагмент из исторического источника, повествующий об одном событии древнерусской истории. Заполните пробелы в тексте. Ответ оформите в виде перечня элементов под соответствующими номерами (8 баллов).**

В лето 6370. Изгнали \_(1)\_ за море, и не дали им дани, и начали сами собой владеть, и не было среди них правды, и встал род на род, и была у них \_(2)\_, и стали воевать друг с другом. И сказали себе: "Поищем себе \_(3)\_, который бы владел нами и судил по праву". И пошли за море к \_(4)\_, к руси. Те варяги назывались русью, как другие называются шведы, а иные норманны и англы, а еще иные готландцы, - вот так и эти. Сказали руси чудь, словене, кривичи и весь: "\_ (5) \_ наша велика и обильна, а порядка в ней нет. Приходите княжить и владеть нами". И избрались трое братьев со своими родам, и взяли с собой всю русь, и пришли, и сел старший, \_(6)\_, в Новгороде, а другой, \_(7)\_, - на Белоозере, а третий, \_(8)\_, - в Изборске. И от тех варягов прозвалась Русская земля.

1. \_\_\_\_\_
2. \_\_\_\_\_
3. \_\_\_\_\_
4. \_\_\_\_\_
5. \_\_\_\_\_
6. \_\_\_\_\_
7. \_\_\_\_\_
8. \_\_\_\_\_

4. Соотнесите имена историков и названия их трудов. Для этого соедините в ответе соответствующие цифру и букву. Ответ оформите в виде таблицы (8 баллов)

	Историки		Названия трудов
1.	В.О. Ключевский	А.	«История государства Российского»
2.	Б.А. Рыбаков	Б.	«Курс русской истории»
3.	Л.Н. Гумилев	Г.	«От Руси к России»
4.	Н.М. Карамзин	Д.	«Язычество Древней Руси»

1	2	3	4

5. Перед Вами несколько картин, в основу которых положены исторические события. Вспомните эти события и расположите картины в хронологической последовательности (последовательности изображенных на них событий). Ответ оформите в виде таблицы (12 баллов).

Последовательность	Буквенное обозначение картины	Событие
1.		
2.		
3.		
4.		

А.



Б.



В.

Г.

6. Перед Вами таблица, отображающая численность рабочего класса в России во второй половине XIX века. Изучите статистические данные и ответьте на вопросы (12 баллов)

Категория рабочих, млн.чел.	1860	1880	1890
	г.	г.	г.
Рабочие крупных предприятий	0,72	1,25	1,50
В том числе:			
фабрично-заводские	0,49	0,72	0,84
горнозаводские и горные	0,17	0,28	0,34
транспортные (железнодорожники и судорабочие пароходов)	0,06	0,25	0,32
...			
Сельскохозяйственные	0,70	2,70	3,50
Строительные	0,35	0,70	1,0
Рабочие мелкой, кустарно-ремесленной (городской и сельской) промышленности	0,80	1,50	2,00
Чернорабочие, поденщики, грузчики, возчики, землекопы, лесные рабочие и пр	0,63	1,20	2,00
<b>Итого</b>	<b>3,20</b>	<b>7,35</b>	<b>10,00</b>

6.2. В каких сферах промышленности было задействовано больше всего людей?

- 1) \_\_\_\_\_
- 2) \_\_\_\_\_
- 3) \_\_\_\_\_

6.3. С какими политическими событиями связаны изменения в численности рабочих в 1890 г. по сравнению с 1860 г.

\_\_\_\_\_

6.4. Какая категория рабочих стала наиболее востребованной в конце XIX века и с чем это связано?

\_\_\_\_\_


\_\_\_\_\_

\_\_\_\_\_

\_\_\_\_\_

7. Перед вами изображения архитектурных объектов Санкт-Петербурга. Вспомните их названия, определите, к какому веку относятся данные объекты и при каком правителе они были возведены (12 баллов).


А.




Б.



В.



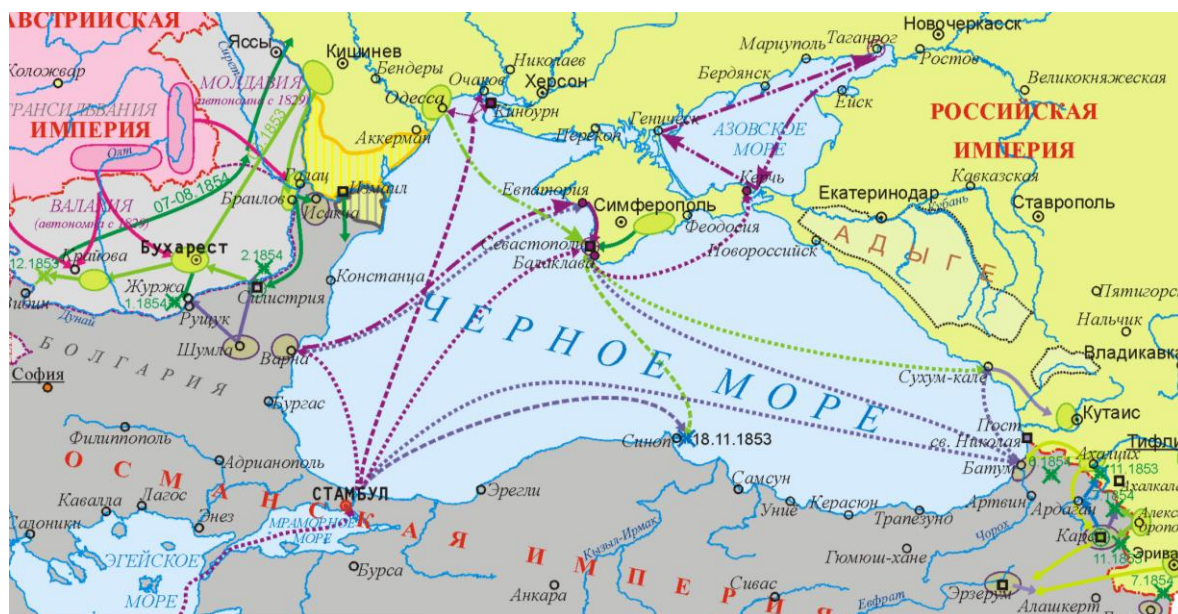
Г.





Архитектурный объект	Век, в котором был построен	Правитель, при котором был построен
А.		
Б.		
В.		
Г.		

8. Изучите предложенную карту военных сражений и ответьте на вопросы (7 баллов).



8.1. План какой войны представлен на карте? Укажите ее даты.

8.2. Назовите не менее трех крупных сражений или операций, которые произошли в ходе данной войны

- 1) \_\_\_\_\_
- 2) \_\_\_\_\_
- 3) \_\_\_\_\_

9. Расставьте административные органы в правильном хронологическом порядке (порядке, соответствующем времени их появления в России). Ответ запишите в виде таблицы (7 баллов).

- А. Боярская дума.
- Б. Конференция при Высочайшем дворе.
- В. Святейший Синод.
- Г. Преображенский приказ.
- Д. III отделение Собственной Е.И.В. канцелярии.
- Е. Наркомат просвещения.
- Ж. Министерство иностранных дел.

1	2	3	4	5	6	7

**10. Наша олимпиада проходит в 100-летие с начала Первой мировой войны. Предлагаем Вам ответить на вопросы теста посвященного данным событиям. Ответ оформите в виде таблицы (20 баллов, по 2 балла за каждый верный ответ).**

*1. Когда началась Первая мировая война?*

- А) 1914
- Б) 1915
- В) 1907
- Г) 1916

*2. Сколько стран принимало участие в первой мировой войне?*

- А) 32
- Б) 25
- В) 38
- Г) 20

*3. Когда Россия вышла из первой мировой войны?*

- А) 1917
- Б) 1918
- В) 1919
- Г) 1920

*4. Основным поводом к началу войны послужило....*

- А) возвышение германской расы
- Б) убийство эрцгерцога Франца Фердинанта
- В) потопление Лузитании
- Г) революционное движение в Венгрии

*5. Когда Германия объявила войну России*

- А) 1 августа 1914 г.
- Б) 9 ноября 1915 г.
- В) Апрель 1914 г.
- Г) 29 июля 1915 г.

*6. 29 июля 1914г. Россия объявляет о ...*

- А) выходе из войны.
- Б) Брусилловском прорыве.
- В) всеобщей мобилизации.
- Г) присоединении к Тройственному союзу.

*7. Когда произошел Брусилловский прорыв*

- А) июнь 1916 г.
- Б) 29 июля 1914 г.
- В) июль 1916 г.
- Г) апрель 1915 г.

*8. Верденская мясорубка была в...*

- А) 1915 году.
- Б) 1918 году.
- В) 1916 году.
- Г) 1917 году.

*9. Весной 1915 г. к Антанте примкнула ...*

- А) Османская Империя
- Б) Сербия
- В) Италия

